



Semaine des mathématiques

JOUONS AUX MATHÉMATIQUES

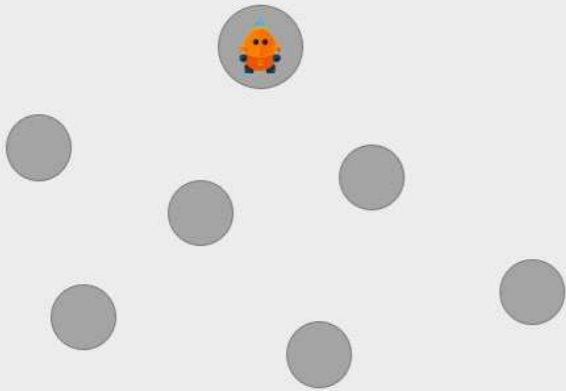
Jeudi 14 mars 2019

TOUTES CATÉGORIES

Énigme 04



Ajouter **6 flèches** au diagramme pour que le robot puisse aller à tous les autres cercles.

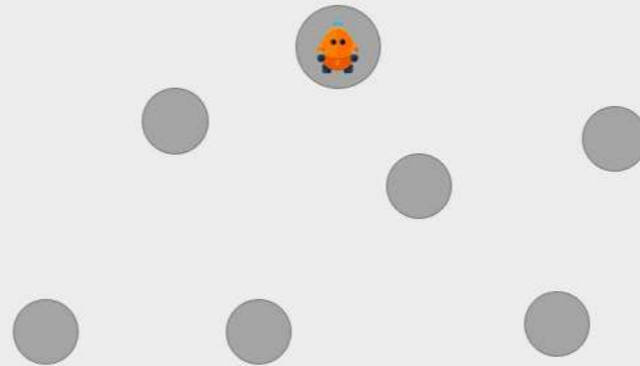


DATE LIMITE DE RÉPONSE : VENDREDI 15 MARS - 19 H



Ajouter **6 flèches** au diagramme pour que :

- le robot puisse aller à tous les autres cercles ;
- le robot passe par au maximum par **deux flèches** pour aller à un cercle ;
- chaque cercle a au maximum **deux flèches** qui en partent.




DATE LIMITE DE RÉPONSE : VENDREDI 15 MARS - 19 H



Ajouter **14 flèches** au diagramme pour que :

- le robot puisse aller à tous les autres cercles ;
- le robot passe par au maximum par **trois flèches** pour aller à un cercle ;
- chaque cercle a au maximum **deux flèches** qui en partent.



DATE LIMITE DE RÉPONSE : VENDREDI 15 MARS - 19 H

CODE DE DÉVEROUILLAGE :

MpBvF12



ANDROID



IPAD



PC

